

Вариант № 4164518

1. Задание 1 № 511585

Найдите значение выражения $\frac{14}{15} : \frac{7}{3} - 0,5$.

2. Задание 2 № 16121

Найдите значение выражения $4^{\sqrt{6}+2} \cdot 4^{-1-\sqrt{6}}$.

3. Задание 3 № 82055

Среди 70 000 жителей города 40% не интересуется футболом. Среди футбольных болельщиков 70% смотрело по телевизору финал Чемпионата мира. Сколько жителей города смотрело этот матч?

4. Задание 4 № 511588

Среднее квадратичное трёх чисел a , b и c вычисляется по формуле $q = \sqrt{\frac{a^2 + b^2 + c^2}{3}}$. Найдите среднее квадратичное чисел $2, 2\sqrt{2}$ и 6 .

5. Задание 5 № 68137

Найдите $\frac{g(11-x)}{g(11+x)}$, если $g(x) = \sqrt[3]{x(22-x)}$, при $|x| \neq 11$.

6. Задание 6 № 506714

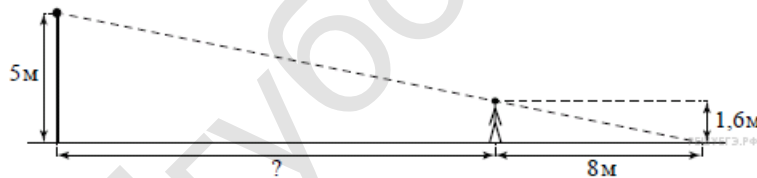
На день рождения полагается дарить букет из нечётного числа цветов. Хризантемы стоят 50 рублей за штуку. У Вани есть 500 рублей. Из какого наибольшего числа хризантем он может купить букет Маше на день рождения?

7. Задание 7 № 511457

Решите уравнение $x^2 + 12 = 7x$. Если уравнение имеет более одного корня, в ответе укажите меньший из них.

8. Задание 8 № 511004

На каком расстоянии (в метрах) от фонаря стоит человек ростом 1,6 м, если длина его тени равна 8 м, высота фонаря 5 м?



9. Задание 9 № 507040

Установите соответствие между величинами и их возможными значениями: к каждому элементу первого столбца подберите соответствующий элемент из второго столбца.

ВЕЛИЧИНЫ	ВОЗМОЖНЫЕ ЗНАЧЕНИЯ
А) масса пакета сахарного песка	1) 18 кг
Б) вес велосипеда	2) 1230 кг
В) вес автомобиля	3) 1200 т
Г) масса железнодорожного состава	4) 1000 г

Запишите в ответ цифры, расположив их в порядке, соответствующем буквам:

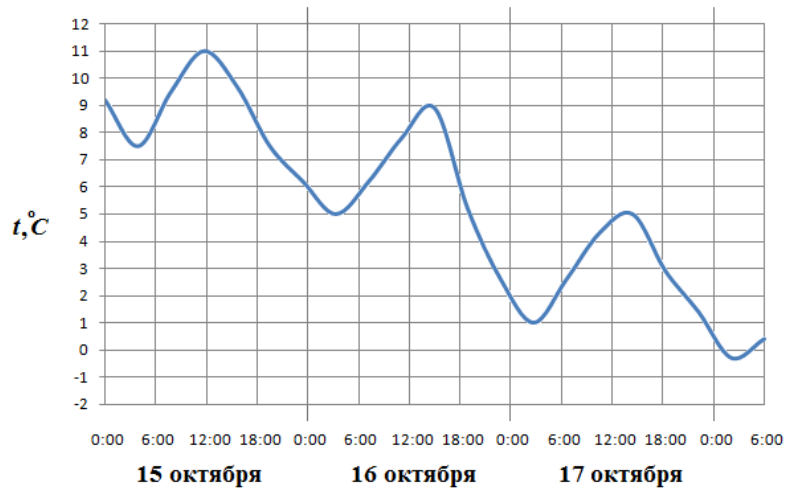
А	Б	В	Г

10. Задание 10 № 1005

На экзамене 40 вопросов, Игорь не выучил 2 из них. Найдите вероятность того, что ему попадет выученный вопрос.

11. Задание 11 № 77243

На рисунке показано изменение температуры воздуха на протяжении трех суток. По горизонтали указывается дата и время суток, по вертикали — значение температуры в градусах Цельсия. Определите по рисунку разность между наибольшей и наименьшей температурами воздуха 16 октября. Ответ дайте в градусах Цельсия.



12. Задание 12 № 506335

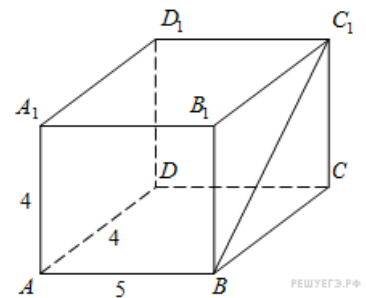
Михаил решил посетить Парк аттракционов. Сведения о билетах на аттракционы представлены в таблице. Некоторые билеты позволяют посетить сразу два аттракциона.

Номер билета	Посещаемые аттракционы	Стоимость (руб.)
1	Американские горки	300
2	Комната страха, американские горки	400
3	Автодром, американские горки	350
4	Колесо обозрения	250
5	Колесо обозрения, автодром	300
6	Автодром	100

Пользуясь таблицей, выберите набор билетов так, чтобы Михаил посетил все четыре аттракциона: колесо обозрения, комнату страха, американские горки, автодром, а суммарная стоимость билетов не превышала 800 рублей. В ответе укажите ровно один набор номеров билетов без пробелов, запятых и других дополнительных символов.

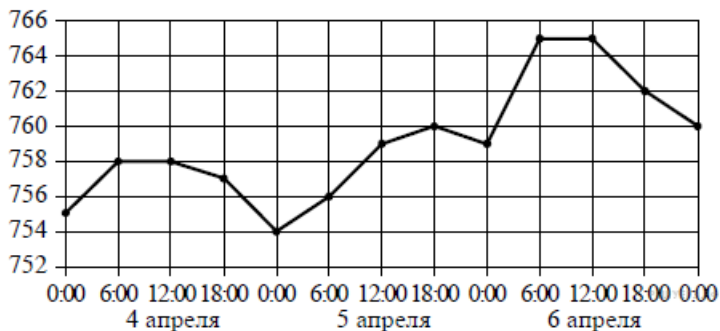
13. Задание 13 № 245362

Найдите угол C_1BC прямоугольного параллелепипеда, для которого $AB=5$, $AD=4$, $AA_1=4$. Дайте ответ в градусах.



14. Задание 14 № 509619

На рисунке точками показано атмосферное давление в городе N на протяжении трёх суток с 4 по 6 апреля 2013 года. В течение суток давление измеряется 4 раза: в 0:00, в 6:00, в 12:00 и в 18:00. По горизонтали указывается время суток и дата, по вертикали — давление в миллиметрах ртутного столба. Для наглядности точки соединены линиями.



Пользуясь рисунком, поставьте в соответствие каждому из указанных периодов времени характеристику атмосферного давления в городе N в течение этого периода.

ПЕРИОДЫ ВРЕМЕНИ

ХАРАКТЕРИСТИКИ

- А) вечер 4 апреля (с 18 до 0 часов)
- Б) день 5 апреля (с 12 до 18 часов)
- В) ночь 6 апреля (с 0 до 6 часов)
- Г) утро 6 апреля (с 6 до 12 часов)

- 1) давление не изменилось
- 2) наибольший рост давления
- 3) давление росло, но не превышало 760 мм рт. ст.
- 4) давление падало

Запишите в ответ цифры, расположив их в порядке, соответствующем буквам:

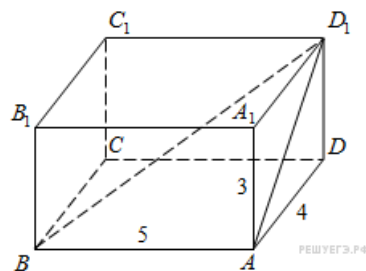
А	Б	В	Г

15. Задание 15 № 27752

Углы треугольника относятся как 2 : 3 : 4. Найдите меньший из них. Ответ дайте в градусах.

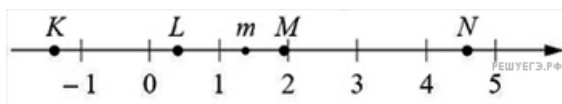
16. Задание 16 № 245361

Найдите угол ABD_1 прямоугольного параллелепипеда, для которого $AB = 5$, $AD = 4$, $AA_1 = 3$. Дайте ответ в градусах.



17. Задание 17 № 506832

На прямой отмечено число m и точки K, L, M и N .



Установите соответствие между указанными точками и числами из правого столбца, которые им соответствуют.

ТОЧКИ

ЧИСЛА

- А) K
- Б) L
- В) M
- Г) N

- 1) $6 - m$
- 2) m^2
- 3) $m - 1$
- 4) $-\frac{2}{m}$

Впишите в приведённую в ответе таблицу под каждой буквой соответствующую цифру.

А	Б	В	Г

18. Задание 18 № 506537

На химическом заводе всего 15 промышленных ёмкостей для реакций. Объём каждой ёмкости меньше 100 литров, но не меньше 50 литров. Выберите утверждения, которые следуют из данной информации.

- 1) На химическом заводе есть ёмкость объёмом 60 литров.
- 2) Разница в объёме двух ёмкостей более 15 литров.
- 3) На заводе нет ёмкости объёмом 40 литров.
- 4) Объём любой ёмкости на заводе более 30 литров.

19. Задание 19 № 508051

Вычеркните в числе 85417627 три цифры так, чтобы получившееся число делилось на 18. В ответе укажите ровно одно получившееся число.

20. Задание 20 № 511933

В обменном пункте можно совершить одну из двух операций:

- 1) за 4 золотые монеты получить 5 серебряных и одну медную;
- 2) за 8 серебряных монет получить 5 золотых и одну медную.

У Николая были только серебряные монеты. После нескольких посещений обменного пункта серебряных монет у него стало меньше, золотых не появилось, зато появилось 45 медных. На сколько уменьшилось количество серебряных монет у Николая?

ЯГубов.РФ